

G2B – Le tourisme et ses espaces

Image de la canicule de 2013 en Chine

Introduction

Lorsque l’on parle de **mobilités transnationales**, c’est bien le **tourisme** qui représente les plus importantes. Avec 1,2 milliard de touristes internationaux par an, et 3 à 4 milliard de touristes nationaux, l’impact de ces mobilités est à la fois économique, social, territorial et environnemental. Comment l’essor du tourisme modifie-t-il les espaces ?

I. Quelles sont les conséquences du développement du tourisme au Costa Rica ?

Activité 1 – Le tourisme aux Seychelles - Correction

Je présente l’archipel des Seychelles

1°) Il se situe dans l’océan Indien, au large de Tanzanie et du Kenya.
2°) C’est un archipel, cela signifie donc qu’il est constitué de plusieurs îles pour un total de 455km² et pour une population de 95 000 habitants. Cet archipel a trois îles principales : Mahé, Praslin et La Digue. Sa capitale est Victoria.

Les atouts de l’archipel

3°) La population est très majoritairement concentrée sur les littoraux. Cela s’explique car le centre de l’île est composé d’une végétation dense et de reliefs peu propice à l’installation des hommes.

4°) L’économie de l’île repose essentiellement sur le tourisme. Cela se voit car de nombreux complexes touristiques à Eden Island ou sur l’île de Persévérance par exemple voient le jour ainsi que les équipements de transport comme l’aéroport de Pointe Larue.

5°) Comme productions piscicoles, il faut évoquer la pêche du thon et l’industrie agro-alimentaire qui en découle notamment les conserveries. Comme productions agricoles, il faut évoquer le guano utilisé comme fertilisant, les productions de noix de coco et de cannelle.

6°) Les autorités ont deux attitudes : il s’agit à la fois de créer de nouveaux complexes touristiques afin d’accueillir toujours plus de touristes sur l’île Aurore par exemple ; mais les autorités tentent aussi de protéger certains espaces : ils représentent 10% de la superficie des Seychelles comme sur l’île Sainte-Anne.

7°) Oui il en existe. Par exemple 43% des littoraux seychellois sont protégés. Sur l’île Sainte-Anne, on trouve un parc naturel marin.

Les aménagements touristiques

8°) Il y a bien évidemment des routes, le port Victoria et l’aéroport de Pointe Larue. Même si l’île Mahé est escarpée en son centre, ces littoraux sont bien équipés. En 2016, l’aéroport a vu arriver 304 000 touristes venant de France, Italie et Allemagne pour l’essentiel.

9°) Cela se voit dans le nombre de projet liés aux activités touristiques : l’Anse des Pins, Eden Island, Beau Vallon, île Aurore, île de la Persévérance... Même l’île Sainte-Anne

dispose d'un complexe hôtelier de luxe. 10°) Les investisseurs viennent de Chine et d'Afrique du Sud.

11°) Deux solutions ont été trouvées : rentrer un peu plus à l'intérieur des terres intérieures de l'île Mahé et investir de nouvelles îles avant délaissées.

12°) On peut par exemple citer l'île Aurore qui devrait accueillir une nouvelle marina, hôtels, écoles, logements... On peut aussi parler de l'île de la Persévérance. Elle devrait pouvoir fournir des logements à 10 000 touristes.

L'impact du tourisme sur l'archipel

13°) Les autorités ont pris conscience des effets néfastes du tourisme sur la nature. Or ils ont besoin de la nature (des coraux notamment) pour continuer à être attractif pour les touristes. Il est donc essentiel pour eux de protéger ces espaces fragiles. 43% des littoraux sont devenus des espaces protégés. Il y a des parcs marins comme celui de Sainte-Anne.

14°) Elle s'accorde mal avec le tourisme même si elles sont liées. Les activités touristiques sont génératrices de nombreux phénomènes : augmentation du trafic (avions et voitures), surconsommation, destruction d'espaces fragiles par des touristes qui ne font pas toujours très attention, menaces sur les littoraux (érosion littorale), menaces sur la biodiversité (les coraux fournissent la nourriture pour des très nombreuses espèces – leur blanchiment les rend fragiles).

15°) Elle connaît deux phénomènes potentiellement très problématiques :

- - *L'érosion littorale : ils ont tenté de la limiter avec des murs, des gabions et des digues,*
- - *Le blanchiment accéléré des coraux dû au réchauffement de la température de l'eau ce qui les rend vulnérable aux maladies et moins nutritifs pour les autres espèces.*

16°) L'érosion littorale consiste en une perte de territoire au profit de la mer. La mer grignote chaque jour un peu plus les littoraux, en premier les plages, ainsi le trait de côte est modifié. Les constructions à proximité des plages accélèrent l'érosion littorale car lorsqu'une vague, issue d'une tempête, pénètre sur l'île, lors de son retrait, sa force est décuplée car elle a rencontré des constructions.

17°) Il n'y avait pas assez de terrain pour construire l'aéroport de Pointe Larue. Les autorités ont donc rajouté un terre-plein sur la pointe sud. Celui-ci a eu pour effet de modifier la dérive littorale, c'est-à-dire le déplacement de matière comme le sable le long des littoraux. Le sable n'arrivant plus sur les plages, un phénomène d'érosion littorale est apparu. Ainsi les plages ont été menacées et elles ont quasiment disparu. Maintenant c'est au tour des constructions d'être menacées. Pour contrer ce phénomène, les autorités ont construit une presqu'île artificielle et des digues pour modifier une nouvelle fois les courants marins.

Je synthétise mon travail

18°) Sur votre cahier, en reprenant les réponses aux questions précédentes, sous la forme d'un paragraphe, en vous appuyant d'exemples précis, expliquez quels sont les atouts des Seychelles.

Les Seychelles sont un archipel composé de plusieurs îles dont trois principales (Mahé, Praslin et La Digue), réparties sur 455 Km² avec une population d'environ 95 000 habitants

dans l'océan Indien. Le tourisme y est une ressource essentielle. Par tourisme, il faut comprendre l'ensemble des activités déployées au cours de voyages ou de séjours situés en dehors de l'environnement habituel pour une période qui ne doit pas dépasser un an. Quels sont les atouts et les effets du tourisme aux Seychelles ? L'archipel est un lieu paradisiaque pour les touristes et les aménagements y sont nombreux ; mais c'est un lieu fragile à bien des égards.

D'abord, l'île dispose de nombreux atouts naturels : des récifs coralliens exceptionnels comme le Reef dans l'Anse des Pins, une nature et une biodiversité rares comme autour de l'île Sainte-Anne. Le tourisme est apparu dans l'archipel dans les années 1960 lorsque les activités traditionnelles comme l'exploitation du guano, la noix de coco et la cannelle étaient en crise. Aujourd'hui, l'économie des Seychelles est dépendante du tourisme. En 2016, l'aéroport Pointe Larue en a accueilli plus de 300 000 en provenance de la France, de l'Italie et de l'Allemagne. Sur l'île, les touristes recherchent bien évidemment un cadre idyllique : plage de sable fin, nature préservée, récifs coralliens... mais ces touristes occidentaux ont besoin de certains équipements. Des complexes touristiques se sont donc créés et ceci dès les années 1980-1990 financés par des capitaux étrangers (chinois et sud-africains). Eden Island, par exemple, est un complexe qui concentrent tout ce que les touristes recherchent : des logements (appartements et villas de luxe), une marina, un centre commercial, des restaurants... L'île de la Persévérance doit accueillir plus de 10 000 personnes et concentrent des services variés : centre commercial, école, police... Tous ces aménagements démontrent que l'île fait tout pour accueillir et encourager le tourisme. Toutefois le centre de l'île Mahé reste encore très sous-exploité car il est composé de reliefs et d'une végétation dense.

Toutefois, ces activités touristiques ne sont pas sans conséquences sur l'archipel. En effet, le tourisme génère de nombreuses nuisances : augmentation du trafic (nuisance sonore, visuelle), augmentation des déchets, menaces sur la biodiversité... Deux problèmes majeurs constituent des enjeux pour le futur touristique de l'île : l'érosion littorale et la fragilisation des récifs coralliens. L'érosion littorale correspond au grignotage par l'océan des littoraux. Cette érosion, bien qu'étant un phénomène naturel, est renforcée par la présence de l'homme. La construction d'un terre-plein à la pointe sud de l'Anse des Pins pour construire l'aéroport a eu pour conséquence de modifier la dérive littorale, c'est-à-dire pour l'exemple en question l'apport naturel en sable sur la plage. Or privé de cet apport en sable, et face à l'érosion littorale, les plages ont quasiment disparu dans cette partie de l'archipel en dépit de l'action des autorités qui ont tenté de construire une digue et une presqu'île artificielle pour limiter le phénomène. La mort des récifs coralliens est aussi problématique. L'augmentation de la température des océans entraîne le blanchissement des coraux qui deviennent plus sensibles aux maladies et moins nutritifs, c'est donc toute la biodiversité qui se trouve menacé. C'est le cas au large des côtes de l'île Sainte-Anne.

On comprend ici toute l'ambiguïté du phénomène touristique : les touristes recherchent des espaces préservés, au panorama exceptionnel, ils sont sources de nombreuses richesses (c'est le cas des Seychelles) ; ainsi, en installant des aménagements (hôtels, marina, aéroports), pour inciter les touristes à venir dans ces lieux, on détruit petit à petit la biodiversité de ces espaces fragiles. Les Seychelles sont-ils un cas particulier ou les effets du tourisme de masse sont-ils ressentis dans d'autres espaces sur la planète ?

II. Pourquoi le tourisme international est-il un symbole de la mondialisation ?

Activité 2 – La tourisme mondialisé

1°) Comment évolue le tourisme international ?

Le tourisme international n'a cessé de croître depuis les années 1990.

2°) Quels sont les cinq pays les plus touristiques ?

On distingue la France, les USA, la Chine, l’Espagne et l’Italie.

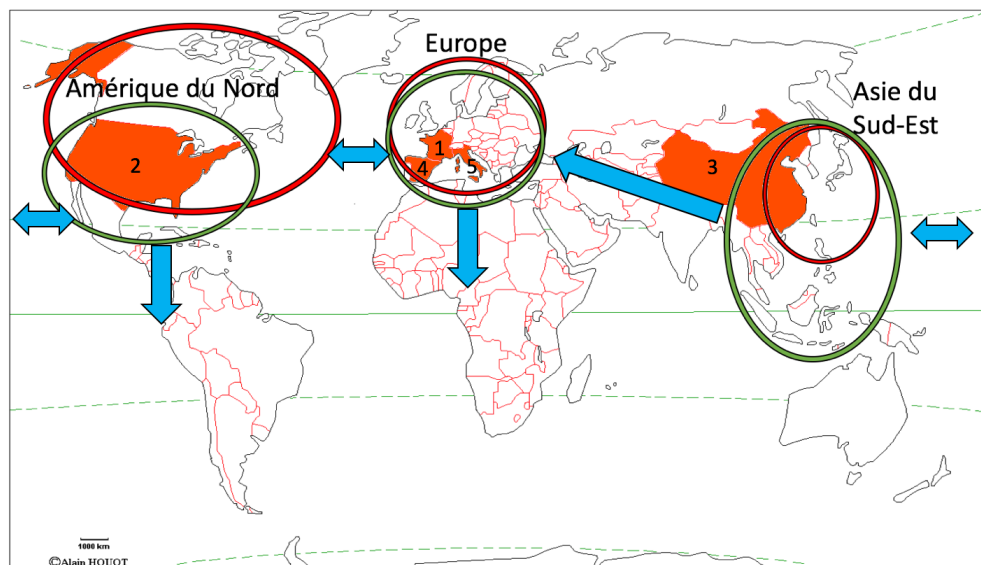
3°) A l’aide de la carte du livre p.261, identifiez les trois principaux foyers émetteurs de touristes et représentez-les sur le fond de carte en choisissant un figuré adapté. Complétez la légende.

4°) A l’aide de la carte du livre p.261, identifiez les trois principales régions réceptrices de touristes et représentez-les sur le fond de carte en choisissant un figuré adapté. Complétez la légende.





5°) A l’aide de la carte du livre p.261, localisez les cinq pays les plus touristiques au monde par des chiffres. Complétez la légende.

6°) A l’aide de la carte du livre p.261, représentez les principaux flux touristiques en choisissant un figuré adapté. Complétez la légende.

Titre : ...Carte des mobilités liées au tourisme dans le monde.....



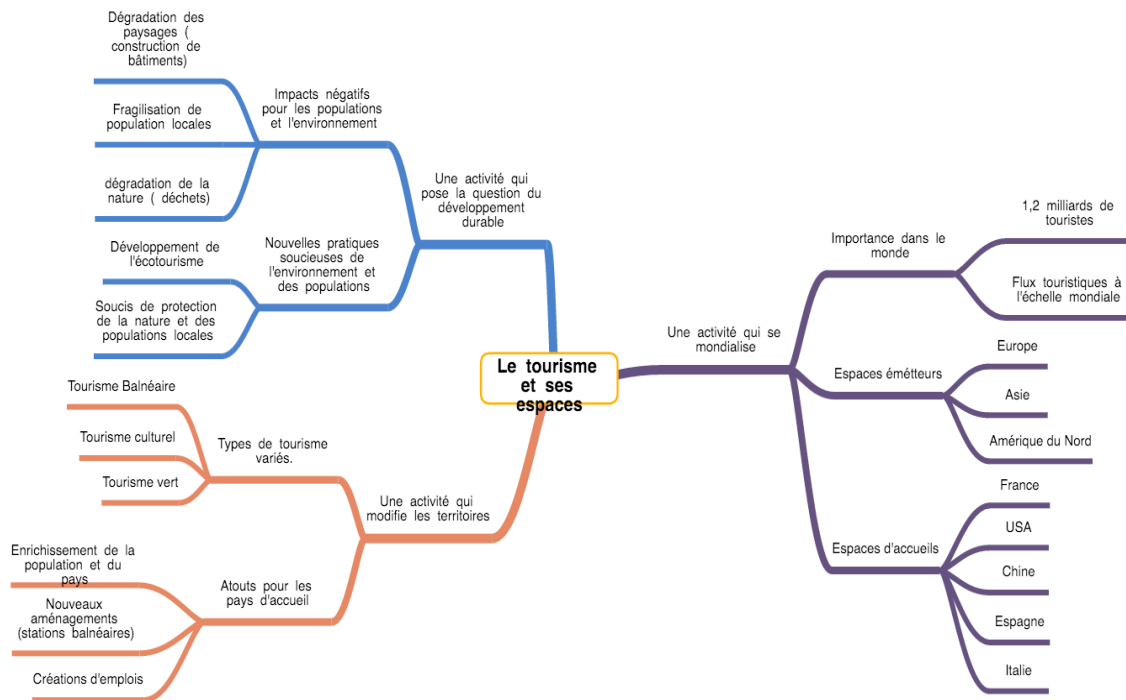
Légende

- | | | |
|---|--|-------------|
|  | Les trois principaux foyers émetteurs de touristes | 1 : France |
|  | Les trois principales régions d'accueil de touristes | 2 : USA |
|  | Les 5 pays les plus visités au monde | 3 : Chine |
|  | Les principaux flux touristiques mondiaux | 4 : Espagne |
| | | 5 : Italie |

Conclusion

Réaliser une carte mentale finale pour le chapitre sur le tourisme et ses espaces.

Mettez-vous par groupe de 4 et à l’aide du cours et du manuel p.250 à 263, continuez à compléter la carte mentale commencée ci-dessous en ajoutant les informations nécessaires pour comprendre chacune des idées évoquées.



Fiche d’objectifs pour réviser

Je dois être capable de connaître la signification des mots-clés suivants :

Mobilité, Migration transnationale, Tourisme, tourisme balnéaire, tourisme culturel, tourisme d’affaires, écotourisme.

Je dois être capable :

- De nommer et localiser les grands repères géographiques suivants :
 - Les grandes aires touristiques du monde.
- D’identifier les différentes pratiques touristiques du Costa Rica.
- D’identifier et d’expliquer les transformations spatiales, économiques, sociales et environnementales liées aux aménagements touristiques.
- D’expliquer le lien existant entre mondialisation et tourisme.